

高三历史试卷

2024. 11

(考试时间 90 分钟 满分 100 分)

第一部分(选择题 共 45 分)

本部分共 15 小题,每小题 3 分,共 45 分。在每小题列出的四个选项中,选出最符合题目要求的一项。

- 20 世纪 80 年代,严文明先生召集考古学者共同探讨中国各区域文明化进程,并提出了“重瓣花朵”理论。即早在新石器时代的中国史前文化就已经基本形成一种重瓣花朵式的格局。判断下列选项中与“重瓣花朵”意味最接近的一个是
A. 星星点点
B. 满天星斗
C. 众星捧月
D. 月明星稀
- 春秋战国时期出现了中国历史上第一次波澜壮阔的思想解放运动,各家学说的政治主张和社会实践构成了思想文化的繁荣景象。以地区为例,山东形成了齐鲁两股文化汇聚。“当孔子远望管子时”,呈现出两种思想主张的关系是

管仲(约公元前 723 年 - 公元前 645 年)

善人者,人亦善之;

君不君,则臣不臣;父不父,则子不子;上失其位,则下逾其节;

国有四维,一维绝则倾,二维绝则危,三维绝则覆,四维绝则灭。倾可正也,危可安也,覆可起也,灭不可复错也。何谓四维? 一曰礼,二曰义,三曰廉,四曰耻。

- A. 批驳 B. 发展 C. 对立 D. 互鉴
- 秦统一六国之后,将《苍颉篇》作为字体、字形的标准和初学范本颁行全国。汉代以后真正发挥“教小学、正文字”孩童启蒙的功用并广泛流行于社会各个阶层。从相关材料可知
①反映了“书同文”大一统政策
②是政令畅通、上情下达的保证
③有利于秦王朝对西域直接统治
④汉字成为西域官方通用的文字
A. ①②
B. ③④
C. ①③
D. ②④

右为出土于尼雅遗址的《苍颉篇》

尼雅遗址位于新疆和田地区,

为两汉魏晋时期精绝国遗址。

精绝国设置“译长”一职;

负责教授汉语文小学博士

所使用的课本就是当时通行全国的《苍颉篇》。



4. 打破右图这一政治局面的原因有

- ①科举制取代了九品中正制
- ②寒门庶族地主力量的崛起
- ③孝文帝政治文化改革措施
- ④农民起义与中央集权加强

- A. ①②③
- B. ①③④
- C. ①②④
- D. ②③④



5. 洛阳位于约北纬 35 度,相传是周公测量日影的地方。成书于 13 世纪、由司农司编纂的《农桑辑要》指出以洛阳为界,“洛南千里,其地多暑;洛北千里,其地多寒。暑既多矣,种艺之时不得不加早;寒既多矣,种艺之时不得不加迟”。但洛阳以北“山隈(山弯处)掩抱,风日和煦”地区与“南方同暑”。由此可见

- ①纬度不同气温迥异决定农时早迟
- ②除南北温差外还应关注地形地势
- ③关注农桑为稳定元朝局势的大事
- ④蒙古统治区以农桑为本实现转型

- A. ①②③
- B. ①③④
- C. ①②④
- D. ②③④

6. “执奏”指的是有司在接收皇帝诏旨后,暂不执行,并上奏表示质疑和反对的行为,“封还执奏权”是明代内阁首辅重要的政治职权之一。在宪宗、孝宗、穆宗时期,首辅驳回过天子谬令,而在武宗、世宗时期该行为完全失灵。可见其

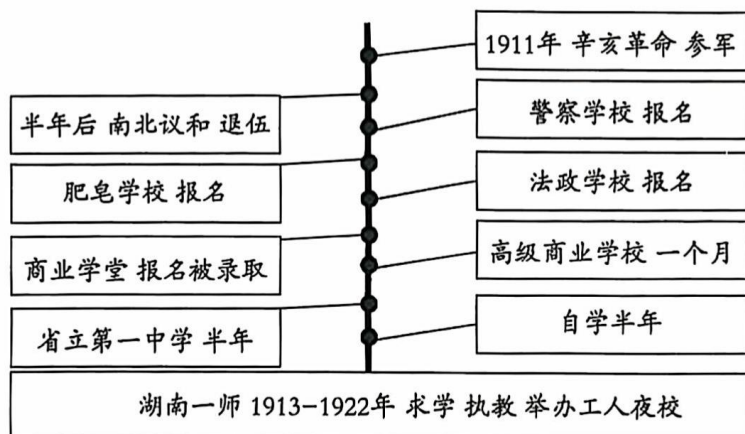
- ①是天子与内阁间完备的反馈系统
- ②实施与天子大臣的个人因素有关
- ③可以构成对君权有限的弹性约束
- ④直接推动奏折制度的实行和完善

- A. ①②
- B. ③④
- C. ①④
- D. ②③

7. 亚洲与西方之间的白银流通随着贸易差额而变动。“1842 年,现代贸易史上第一次真的发生了白银大量从亚洲运往欧洲的事情”。19 世纪中期的人们在解读这一货币流通现象时,最准确的是

- A. “英国及西欧茶叶消费迅速增长”
- B. “英国仁慈推动鸦片贸易合法化”
- C. “以武力打开了天朝帝国的大门”
- D. “东印度公司被迫放弃贸易垄断”

8. 1919年12月7日,《新生活》第16期中有如下报道,“日本人的商品,和中国人的金钱亲善。日本人的铁棍手枪,和中国人的头颅血肉亲善。日本的侵略主义,和中国的土地亲善。日本的军舰,和中国的福建亲善。这就叫中日亲善”。这篇报道
- A. 反映出日本侵华加剧中日矛盾突出
B. 指出引发五四运动爆发的直接原因
C. 体现了民族矛盾已升级为主要矛盾
D. 揭示日本加紧推行东方会议的方针
9. 有人列出毛泽东青年时期的一段经历,起名为“度过迷茫”。从他的这段经历中可知



- A. 停止乡试后城乡各处新式学堂数见不鲜
B. 得到了孙中山先生《建国方略》的指引
C. 投身于反对袁世凯复辟帝制的政治斗争
D. 于比较和鉴别中选择了马克思列宁主义
10. “苏维埃文化教育的总方针在于以共产主义的精神来教育广大的劳苦民众,……一切工农劳苦群众及其子弟,有享受国家免费教育之权”。《共产儿童读本》在中国义务教育的发展史上具有重要历史意义。材料反映出
- ①无产阶级领导之下的苏俄式的革命道路
②土地革命战争时期共产党重视儿童教育
③关注引导儿童树立革命意识斗争意识
④实施义务教育扫除文盲提升民众素养
- A. ①②
B. ③④
C. ①④
D. ②③
11. 2024年6月26日一条《冲绳知事怒斥美军暴行不可饶恕》的新闻,不禁令我们想起1946年冬在中国大地上兴起的那一场运动。下列选项中与“那一场运动”相关的有
- ①学生为先锋 ②第二条战线 ③爱国民主运动 ④民族意识觉醒
- A. ①②③
B. ①③④
C. ②③④
D. ①②③④

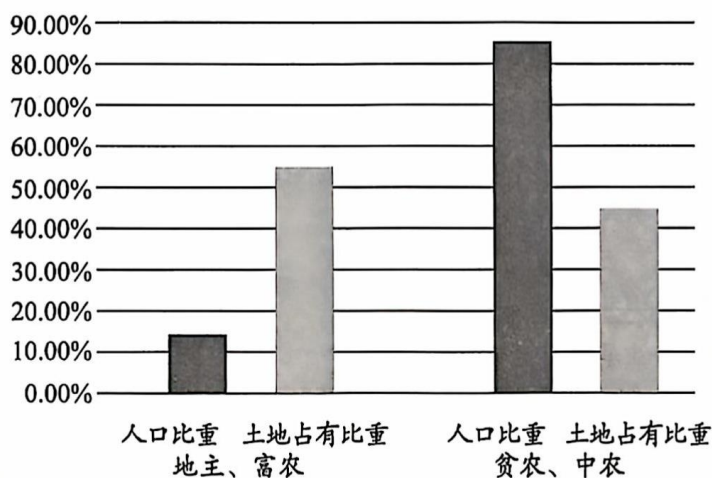


红军好,红军好,
当红军最荣耀,
为苏维埃政权而奋斗,
享受优待条例十八条。
踊跃参加红军去,
反动政府快打倒,
看明朝,
红旗到处飘。

12. “我们的会议之所以称为政治协商会议,是因为三年以前我们曾和蒋介石国民党一道开过一次政治协商会议。那次会议的结果是被蒋介石国民党及其帮凶们破坏了,但是已在人民中留下了不可磨灭的印象。”这两次政协会议的共同点是

- A. 召开地点相同
B. 大会职权相同
C. 形成多项决议
D. 践行人民政协

13. 面对当时中国农村状况,新生的人民政府所采取的措施是



- A. 发动土地革命
B. 推行土地改革
C. 开展合作化运动
D. 实行“包产到户”

14. 苏联是世界上第一个承认并与中华人民共和国建立外交关系的国家。苏联解体后,中华人民共和国承认俄罗斯联邦是苏联的合法继承国。从中俄关系走过的不平凡的75年发展历程中,我们领会到

- ①超越冷战时期的军事政治同盟模式
②达到新时代全面战略协作伙伴关系
③重申加强“G7”机制协作推动经济全球化
④恪守《联合国宪章》和国际关系基本准则

- A. ①②③
B. ①③④
C. ②③④
D. ①②④

15. 2024年6月25日,嫦娥六号完成了人类历史上首次月球背面采样,凝结着我国几代航天人的智慧和心血。回顾新中国科技发展历程,下列排序正确的是

- ①第一艘无人实验飞船成功发射
②国务院批准组织实施863计划
③试制并成功发射第一颗人造卫星
④“嫦娥一号”首次完成绕月探测

- A. ④①②③
B. ③②①④
C. ②①④③
D. ①②③④

第二部分(非选择题 共55分)

本部分共5大题,共55分。请用黑色字迹签字笔在答题卡上各题的答题区域内作答,在试卷上作答无效。

16. (15分)何以中国

材料一 中华大地其地势如同三级巨大的阶梯,江河为经络,山脉为骨骼,东南面向海洋、西北通达欧亚大陆腹心,环境多元复杂,浑然而为一体。漫长的旧石器时代,中国人完成了“连续进化、附带杂交”的演化进程。进入新石器时代,南稻北粟的双作物农业起源、家猪的驯化,不仅为人类生存和发展做出了特殊贡献,也为中华文明起源奠定了坚实的基础。对家族兴旺的责任和对祖先的敬奉,成为我们重要的文明基因。中国人的祖先,钟此天地之灵秀,得物华天宝,汇多元为一体,包容四方先进因素,以成文明,以成中国。

(1)结合材料,概述早期中华文明的特征。(4分)

材料二 自20世纪90年代起,一些学者结合文献资料和考古资料,总结早期中国的发展态势,提出了“三次浪潮”说。

主张一	三次浪潮发生于炎黄时期、夏商西周时期和春秋战国时期。
主张二	中华民族在伏羲、黄帝、大禹时期发生过三次统一浪潮。
主张三	4000年前玉文化统一、3000年前汉字统一和2000多年前秦帝国统一。
主张四	高庙文化白陶浪潮、仰韶文化彩陶浪潮和龙山文化玉器浪潮。
主张五	彩陶浪潮、玉器浪潮和青铜浪潮,分别对应仰韶时代、龙山时代和夏商周时期。

虽具体内容角度不同,但学者们均认为这些浪潮波及的区域一次比一次广阔,影响一次比一次深远,最终推动秦汉大一统的完成以及中华民族共同体的形成。

(2)比对以上观点之后,你的主张是什么?阐述你的理由。(6分)

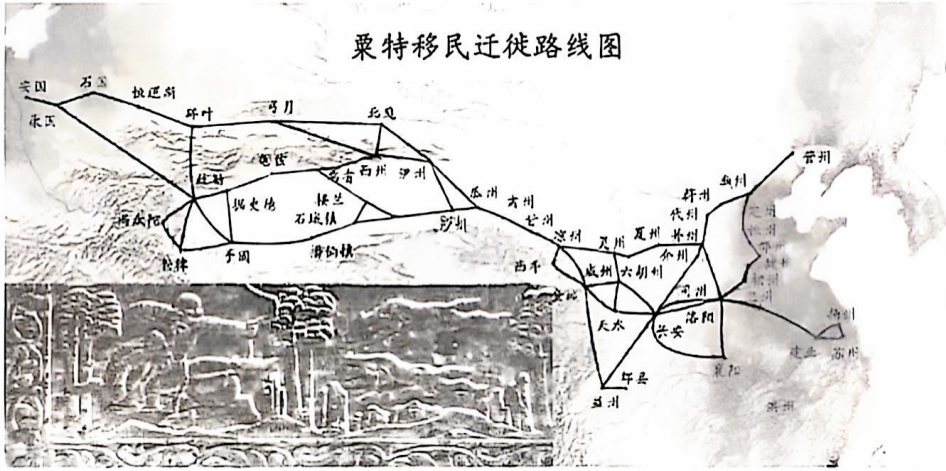
材料三 清朝大力承接“大一统”与中国认同,建立起“集权下有分权的行政管理体制”,对“直省”与“藩部”采取有针对性的治理方案,制定兼顾内地与边疆的多层级法律制度;以农业、商业、交通通讯等为主要内容的边疆开发有序推进,在官方调控与市场机制作用下,使国家内部各区域间的联系更加紧密;沿袭儒学传承的历史谱系,采取因俗而治的宗教治理政策;在确保海疆安全稳定的前提下开展海外贸易,在天下观影响下构建宗藩体制,与近代西方殖民体系形成鲜明对比。

——摘引自朱泚 孙浩然《中华文明统一性特征在清代的表达与实践——以〈清代国家统一史〉为中心的探讨》

(3)请对上述材料的核心观点进行概括,并结合所学,谈谈你对该观点的认识。(5分)

17. (10分)昭武九姓

粟特人,在中国史籍中又被称为昭武九姓等,属于伊朗系统的中亚古族。在公元3至8世纪,粟特人大批东行,沿线建立聚落,形成了大小不同的城邦国家,史书中有着康国自唐高祖到唐玄宗时期供奉特产的记录。经过长时间的经营,在撒马尔罕和长安之间,甚至远到中国东北边境地带、印度地区,逐渐形成了粟特人的贸易网络。



“射猎图”石枕(图案),邾城遗址出土的典型粟特器物。描绘一位高鼻深目的胡人策马回首射箭,图像左方和下方装饰有卷草纹饰带;此为萨珊波斯常见的艺术题材。

萨保是粟特商队的首领,同时也是粟特人信奉的琐罗亚斯德教(祆教、拜火教)首领,当时的中国政府把萨保纳入自身的官僚体制当中,唐朝边境地区如营州等地的胡人聚落保留该制。唐初朝廷设立蕃养官马的监牧机构,归附、使节、质子、或以门荫方式入仕的粟特人授以武职。北朝至隋唐时期,大量粟特人定居中原,自称长安人、洛阳人、会稽人等。入华粟特人改换姓氏,《新唐书》中康、安、曹、石、米、何、史等粟特姓氏,被统称为“昭武九姓”,在入华粟特康氏碑志中,以西周卫康叔作为普遍的祖先认同。由于安禄山、史思明都是粟特人,这影响到唐朝中后期一些粟特人的生存环境。晚唐时,河北以及原六胡州的粟特胡人,加入到北方民族沙陀部当中。

结合图文材料,描述粟特人的东迁路线。分析其对中国产生的影响。(10分)

18. (10分) 义气皇帝



在历代皇帝中，赵匡胤以仗义的形象被演绎传颂。

“酒酣，屏左右谓曰：我非尔曹之力，不得至此，念尔曹之德，无有穷尽。然天子亦大艰难，殊不若为节度使之乐，吾终夕未尝敢安枕而卧也。”杯酒释兵权是中国历史上最著名也最成功的酒宴，政治、军事、义气的含金量远远超过了“鸿门宴”。

“一日，召便殿赐饮款曲，因问诸方镇，尔在本镇除奉公上之外，岁得自用为钱几何？方镇具陈之。上谕之曰：‘我以钱代租税之入以助尔私，尔辈归朝，日与朕相宴乐何如？’方镇再拜……州县租赋，悉归公上，民无苛敛之患。”

鉴于唐末五代重武轻文、方镇太重的局面，职业军人出身的宋太祖似是将江湖之义转化为庙堂之义，以温和的方式对冲了长期以来的暴力，显示了不同寻常的政治智慧，在历史上留下独特印记。

有人说，宋太祖以义气创设了新的政治治理模式，开创赵宋三百年基业。请对“以义为政”的治理模式进行阐述。(10分)

19. (12分)内审诸己,外审诸时

近日,一篇文章在反思鸦片战争失败原因时写到:承平日久的八旗和绿营兵武备废弛,不足以言战;虽调派到驻守沿线四省的兵力总计25.8万名,是英军的12余倍,但互不配合,只求自保,尽管涌现出像林则徐、关天培、陈化成这样英勇的官员和将领,仍不能改变清朝官场的整体局面,这是战败的原因之一。

侵略军利用官民矛盾,也成为一些学者研究的角度。1840年英国政府向英国全权大臣、侵华远征军总司令懿律下达了明确训令,且英军沿途以传单、告示等形式表白发动战争的原因是因为受到清政府的不公正对待,军事行动只对官不对民,并采取诸如高价购买民间食物等手段……战后《南京条约》条款中也有“凡系中国人,前在英人所据之邑居住者,或与英人有来往者,或有跟随及候候英国官人者,均由大皇帝俯降御旨,誊录天下,恩准全然免罪;且凡系中国人,为英国事被拿监禁受难者,亦加恩释放”的具体内容。将内忧视为“心腹之患”,这也是道光皇帝和清朝统治阶级最后放弃了抵抗的一个重要的原因。

——摘引自崔志海《鸦片战争失败原因再反思》

鸦片战争是中国近代屈辱史的开端。百年后,中国人民取得了近代以来抗击外敌的第一次完全胜利。以鸦片战争失败为鉴,分析抗日战争中国取得胜利的原因。(12分)

20. (8分)超前思维

材料一 1927年大革命失败后,中国革命的力量大为削弱,有人提出“红旗到底能打多久”的疑问。毛泽东曾用极富想象力的语言作出过精辟的比喻:“它是站在海岸遥望海中已经看得见桅杆尖头了的一只航船,它是立于高山之巅远看东方已见光芒四射喷薄欲出的一轮朝日,它是躁动于母腹中的快要成熟了的一个婴儿。”充满激情而形象的语言,揭示了深刻的革命哲理,包含了美好的理想信念,给人们以巨大的鼓舞。

材料二 全面建成社会主义现代化强国,总的战略安排是分两步走:从二〇二〇年到二〇三五年基本实现社会主义现代化;从二〇三五年到本世纪中叶把我国建成富强民主文明和谐美丽的社会主义现代化强国。……在基本实现现代化的基础上,我们要继续奋斗,到本世纪中叶,把我国建设成为综合国力和国际影响力领先的社会主义现代化强国。

——《高举中国特色社会主义伟大旗帜为全面建设社会主义现代化国家而团结奋斗——在中国共产党第二十次全国代表大会上的报告》

超前思维是建立在对事物发展的历史和现实把握之上,通过前瞻性思考,进行的决策。结合上述材料,加以论述。(8分)