

九年级历史

2024. 01

学校 _____

姓名 _____

准考证号 _____

注
意
事
项

1. 本试卷共 8 页，共两部分，28 道题，满分 100 分。考试时间 90 分钟。
2. 在试卷和答题纸上准确填写学校名称、姓名和准考证号。
3. 试题答案一律填涂或书写在答题纸上，在试卷上作答无效。
4. 在答题纸上，选择题用 2B 铅笔作答，其他题用黑色字迹签字笔作答。

第一部分

本部分共 24 题，每题 2 分，共 48 分。在每题列出的四个选项中，选出最符合题目要求的一项。

1. 殷墟出土的十多万片甲骨中，有近 200 片记载了妇好的故事：她是武丁的王后，也是祭司；曾统帅军队讨伐羌方，并取得胜利。这些情况《史记》中只字未提。对以上材料理解正确的是
①《史记》首次记录了甲骨文的出土 ②甲骨文记载了祭祀、战争等内容
③甲骨文为研究商朝历史提供了证据 ④出土文献可填补传世文献的空白
A. ①②③ B. ①②④ C. ①③④ D. ②③④
2. 春秋时期，不同学派代表人物提出各种政治主张，希望用自己的学说解决社会问题。右幅漫画中的思想家提出的主张是
A. 无为而治 B. 兼爱非攻
C. 有教无类 D. 民贵君轻
3. 1975 年，湖北省云梦县睡虎地出土了大量秦竹简。其中《编年纪》竹简记述了秦昭襄王元年（前 306 年）到秦始皇三十年（前 217 年）的军政大事，也记录了墓主人“喜”的生平（见右图）。该竹简可用来说明
A. 秦兼灭东方诸侯国的战争
B. 各地区人民普遍要求统一
C. 秦朝大兴土木等诸多暴政
D. 秦末农民起义的进攻路线
4. 史书记载，秦始皇“罢（诸）侯置（郡）守，设官分职，不与古同”。对“不与古同”理解准确的是秦朝
A. 实行世袭制代替禅让制 B. 废除分封制推行郡县制
C. 修筑长城抵御匈奴侵扰 D. 以五铢钱作为流通货币



十七年，攻韩
十八年，攻赵……
廿年，……姬终（母亲去世）。韩王居□山
廿二年，攻魏梁（梁）。
廿三年，兴，攻荆……

12. 史书记载，唐玄宗统治时期“天下雄富，京师米价斛不盈二百……行人万里，不持寸刃”。以上现象描述的是

- A. 文景之治 B. 光武中兴 C. 开元盛世 D. 康乾盛世

13. 某学者认为，7至9世纪的中国文化呈现出一种全面开放状态，兼容并蓄。下列文物能够印证上述观点的是



- A. 商朝司母戊鼎 B. 东汉陶院落模型 C. 唐三彩胡人骑驼俑 D. 清朝金奔巴瓶

14. 《新唐书》载，安史之乱后，“方镇相望于内地，大者连州十余，小者犹兼三四”，地方上“将骄则逐帅，帅强则叛上”。这一现象体现出的唐代社会危机是

- A. 外戚干政 B. 藩镇割据 C. 宦官专权 D. 殖民侵扰

15. 《卖油翁》中的陈尧咨是北宋状元，同时也擅长射箭，他每逢宴会就会展示射箭技艺。其母亲得知后，呵斥他“不致力于施行仁化之政，却专注于射箭技艺，辱没了先人的志向”。陈尧咨母亲对他的呵斥，反映出当时人们的思想观念是

- A. 和而不同 B. 追求享乐 C. 以人为本 D. 重文轻武

16. 我国8至9世纪的一部著作，记录了如下现象：“以硫磺、雄黄合硝石，并密烧……焰起，烧手面及烬屋舍。”与这一现象相关的发明是

- A. 司南 B. 火药 C. 印刷术 D. 秧马

17. 宋朝僧人道潜的诗中描述北宋草市情景（见右图）。该诗歌可用来说明宋代

- A. 乡镇集市贸易以日常商品为主 B. 瓦子具有商业功能
C. 交子发展成与铜钱并行的货币 D. 商帮拥有雄厚资本

18. 成吉思汗到蒙哥汗时期，蒙古汗国一直以生肖纪年。至某大汗继位伊始，便依据儒家经典，建“中统”年号。此后，他又取《易经》中“大哉乾元”之义，定“大元”为新的国号。材料中的“他”是

- A. 阿保机 B. 阿骨打
C. 忽必烈 D. 努尔哈赤

农夫争道来，
聒聒更笑喧。

……

或携布与楮，
或驱鸡与豚。
纵横箕帚材，
琐细难具论。

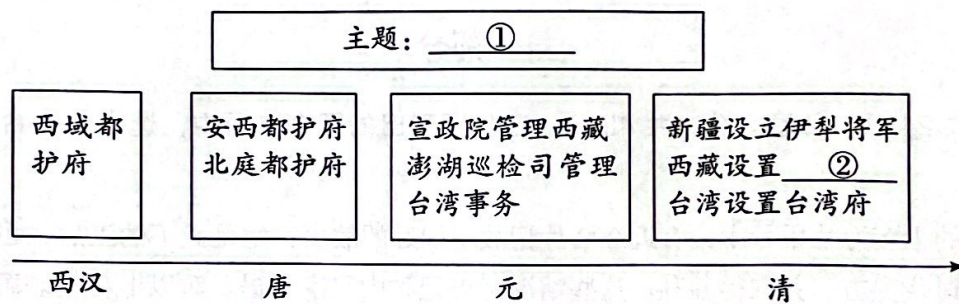
——《归宗道中》

19. 以下有关明清时期记载的史事，其共同影响是

明朝	清朝
并不许立丞相。臣下敢有奏请设立者，文武群臣即时劾奏，处以重刑。（《明太祖实录》）	（军机大臣）只供传述缮撰，而不能稍有赞画于其间也。（赵翼《檐曝杂记》）

- A. 加强中央对地方监察 B. 加强丞相权力
C. 降低政府的财政支出 D. 强化君主专制

20. 某班举办“明清时期中国人民反侵略斗争”主题故事会，除讲述“郑成功收复台湾”“雅克萨之战”的故事外，围绕这一主题还可以讲述的故事是
- A. 甘英出使大秦
B. 马可·波罗来华
C. 郑和下西洋
D. 戚继光抗倭
21. 宋应星在《天工开物》序言中说，“卷分前后，乃‘贵五谷而贱珠玉’之义”，并将《乃粒》（五谷）置于首卷。这表现出作者
- A. 重视农业生产
B. 漠视工艺制作
C. 抨击闭关锁国
D. 批判封建礼教
22. 建构示意图是历史学习的重要方法。下图为某同学复习中国古代史时绘制的示意图，其中①②处应填



- A. 社会经济发展 北庭都元帅府
B. 边疆治理 北庭都元帅府
C. 社会经济发展 驻藏大臣
D. 边疆治理 驻藏大臣
23. 下列诗词反映的历史事件按时间先后排序正确的是
- ①“自从贵主和亲后，一半胡风似汉家。”
②“秦王扫六合，虎视何雄哉！”
③“碧海蓝天扬帆起，七下西洋显身手。”
④“千秋疑案陈桥驿，一着黄袍便罢兵。”
- A. ①②④③
B. ②①④③
C. ③①②④
D. ④②③①
24. 分类整理历史知识是重要的学习方法。以下分类整理中①处应填


第一类	陈胜、张角、黄巢
第二类	张骞、玄奘、①
第三类	曹雪芹、罗贯中、汤显祖

- A. 孙权
B. 鉴真
C. 李清照
D. 李自成

第二部分

本部分共4题，共52分。

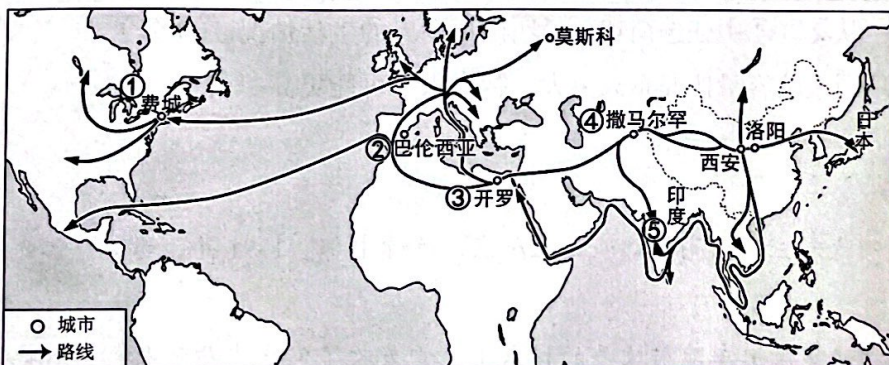
25. (14分) 通达天下

材料一	材料二
<p>秦灭六国后，整修和连接以往六国的道路，最终建成以咸阳为中心的全国交通干线网络，把全国各郡和重要城市连接起来。除了宽达几十米的驰道外，秦朝还在西南山区修筑“五尺道”，在今湖南、江西修筑“新道”等不同等级的道路。</p> <p style="text-align: right;">——摘编自李楠《中国古代交通》等</p>	

(1) 依据材料一，概括秦朝道路的特点。(4分)

(2) 材料二反映了我国哪一朝代的水运路线?(1分) 写出两条支持你的判断的理由。(4分)

材料三



中国造纸术传播路线

资料卡	<p>唐天宝十年(751年)，唐军在怛逻斯战役中被阿拉伯军队打败，大量工匠出身的士兵被俘，其中有些是造纸匠。他们被送至撒马尔罕，阿拉伯人在当地建立造纸作坊，“撒马尔罕纸”遂为当时之名产，流行于西亚。</p>
	<p>九世纪中期，作家裘希得曾说：“西有埃及莎草纸，东有撒马尔罕纸。”</p>
	<p>九世纪末，埃及开罗有了自己的新式纸厂，莎草纸地位下降，一封写于883-895年的文书中，已有“用莎草纸作书，请您原谅”的话。十世纪，新式纸在埃及境内取代了莎草纸。</p>
	<p>1150年，巴伦西亚开设造纸厂，这是西班牙的第一家造纸厂，也是欧洲的第一家造纸厂。此后，造纸术向法、意、德、荷、俄、英等国家传播。曾经垄断在少数统治阶级手中的文化得以向民众开放。14-16世纪纸质书更是成为人文主义传播的载体。</p>

(3) 依据材料三的图文资料，按时间顺序，将地图中序号填入相应位置。

造纸术传播到欧洲的路线：中国 → _____ → _____ → _____ (3分)

(4) 阅读材料三并结合所学，分析造纸术传播的影响。(2分)

26. (12分) 农为根本

材料一

①秦国蜀郡郡守李冰主持修建都江堰，使成都平原成为“天府之国”。

②北魏贾思勰著《齐民要术》，该书“起自耕农，终于醯醢[xī hǎi]”，从耕田务农开始，到酿造酱醋结束，内容包括耕作、施肥、种子的选取与收藏等。

③唐朝某地方官为解决浙江沿海咸潮上溯“禾不堪灌”的问题，修筑了它山堰水利工程，保障农业灌溉。

④北宋时期，宋真宗因江南地区“稍旱即水田不登(丰收)”，遣使推广由越南传入的占城稻。

⑤明朝徐光启在《农政全书》中全面总结了我国古代农业生产经验和技術革新，并记录了自己的农学研究成果。

⑥《本草纲目》记载：“土芋，释名土卵、黄独、土豆。”这是我国文献对美洲传入的土豆的较早记载。

(1) 阅读材料一，完成下列表格。(4分)

主题 1	序号	主题 2	序号	主题 3	序号
农业科技著作的总结			①		
			③		

材料二

河西原本是优良的天然牧场，此地归汉后，汉政府“斥塞卒六十万人戍田之”，开垦这里的绿洲沃土。但因地方僻远，在很长一段时间内，农业不算发达。在曹魏以前，敦煌一带农民的耕作方式粗放，又不晓犁耕技术，收获不丰。曹魏时几位励精图治的地方官员，在此兴修水利“修理旧渠”，使这里“家家丰足，仓库盈溢”。

——摘编自《观我生：壁画上的中国史》等



《牛耕图》

(嘉峪关新城 12 号魏晋画像砖，反映了中原先进耕作技术的推广)

(2) 依据材料二，概括汉魏时期河西地区农业生产发展的原因。(4分)

材料三 玉米，原产地美洲，一般认为 15 世纪传入中国。清初，因其产量高、可在山地种植、耐旱等特点，最初作为“救荒作物”大量种植。到了乾隆、嘉庆、道光时期，由于人口激增，人地关系紧张，玉米在全国的种植面积迅速上升，在一些山区甚至超过了传统作物。同时，也由于大规模垦荒种植玉米，一些山区“深林剪伐殆尽”。

——摘编自倪玉平《清史》等

(3) 依据材料三并结合所学，对清代推广玉米种植进行评价。(4分)




27. (17分) 茶起源于中国, 盛行于世界

材料一 我国西藏、青海、新疆、内蒙古等地区的气候不适合种植茶叶, 而当地居民食肉饮乳, 使助消化、解油腻的茶叶消费成为必需。中原王朝的农业、交通和军事对马匹有客观需求。于是, 茶叶贸易与马匹贸易相结合, 形成了“茶马互市”。这种贸易模式盛行于唐、宋、明, 至清逐渐衰落。

——摘编自李宁《丝绸之路上的茶叶贸易与茶文化》等

(1) 依据材料一并结合所学, 分析我国古代“茶马互市”盛行的影响。(6分)

材料二 以下是与茶有关的图画:

		
①德国传教士于1667年出版《图说中国》。书中介绍了中国云南的茶树, 绘制了茶树的样子, 图中竹席上堆放青叶, 应为正在晾晒茶叶, 这是欧洲第一幅茶画。	②波士顿倾茶事件。英国人把饮茶习惯和茶叶贸易推广至北美。美国独立战争前后, 饮用茶成为时尚。	③英国画家乔治1885年绘制的《茶》, 画中年轻女子手持绘有东方风情图案的茶具, 桌面托盘上有体现英式饮茶习惯的奶壶和糖。

(2) 从材料二中找出能说明以下主题的材料(3分, 写序号)

欧洲人了解中国种茶制茶情况: _____

饮茶习俗在英国的本土化: _____

美洲受到欧洲饮茶习惯的影响: _____

材料三 1839年, 英国在印度开办的一家茶叶公司派遣罗伯特·福琼到中国盗窃优质茶种和茶苗, 学习中国制茶技术。福琼化装成中国人, 先后四次深入内地。1851年, 他将2000株茶苗、1.7万粒茶树种子以及招募到的8名中国制茶专家带到印度。1872年, 第一台揉茶机在该茶叶公司的茶园中使用, 至19世纪末, 印度已经实现揉茶、切茶、筛茶、装茶等各个环节的机械化。为了与中国茶竞争, 英国人还在教材里宣传中国茶是如何的不好。到1888年, 从印度运往英国的茶叶数量完全超过了中国。

——摘编自周重林, 太俊林《茶叶战争》

(3) 依据材料三, 概括英国茶业崛起的原因。(6分)

材料四 中国茶业要发展，除了提高茶的经济效应外，还要大力发展茶文化创意产业。以茶叶闻名的安溪县把民间的茶王比赛移到香港、北京等地举办，把民间斗茶赛变为一种独特文化。北京某茶馆推出系列茶文化漫画作品，让国内外游客更加形象直观地了解中国茶文化。

——摘编自姚国坤《图说中国茶文化》

(4) 2022 年底，我国申报的“中国传统制茶技艺及其相关习俗”入选联合国教科文组织人类非物质文化遗产代表作名录。结合实际，说说你如何向国际友人宣传中国茶文化。(2分)

28. (9分) 某校历史小组开展了博物馆探索历史的活动

【走进周口店遗址】

材料一 历史小组参观了周口店遗址公园和遗址博物馆，对其中山顶洞人的情况进行了如下梳理：

①	山顶洞人脑容量	1300-1500 毫升，远高于北京人的 915-1225 毫升
②	山顶洞人的遗址中发现的动物化石	虎、熊、狐、兔、鹿、鼬、鱼等
③	山顶洞人使用的工具	打制石器；另发现一枚骨针，针身顺直，针端尖细，针眼用尖锥石双向穿孔
④	山顶洞人使用的装饰品	由兽骨、海蚶壳、鱼骨和穿孔石珠组成的项链

(1) 仿照示例并结合所学，从②③④中任选两项，说明山顶洞人的生活情况。(4分)

示例：从①可以看出，山顶洞人脑容量比北京人更大，智力水平可能更高。

【走进金中都水关遗址】

材料二 1153 年，金朝第四代君主完颜亮把都城迁至燕京，改称中都。1991 年，考古学家对金中都水关遗址进行发掘。

该遗址出土的铜坐龙曾用于皇室御用车座前扶手的横木上，它吸收了宋代中原流行的龙型特点，也保留了女真人驯养的捕猎猛禽海东青的样貌。另一出土文物“吕君墓表”的表头以篆体文字刻成，由金天德三年进士、丞相之子蔡珪书写，介绍墓主吕徽的表文则由金朝另一位书法家任询撰写。

——摘编自陆杨《辽金城垣博物馆——藏在脚底下的历史密码》等

(2) 依据材料二，指出金朝时北京的城市地位。(1分) 说明金朝民族交融的表现。(4分)