

考生须知

1. 本试卷共 8 页，共两部分，共 24 题，满分 70 分。考试时间 70 分钟。
2. 在试卷和草稿纸上准确填写姓名、准考证号、考场号和座位号。
3. 试题答案一律填涂或书写在答题卡上，在试卷上作答无效。
4. 在答题卡上，选择题用 2B 铅笔作答，其他试题用黑色字迹签字笔作答。
5. 考试结束，将本试卷、答案卡和草稿纸一并交回。

第一部分

本部分共 20 题，每题 1.5 分，共 30 分。在每题列出的四个选项中，选出最符合题目要求的一项。

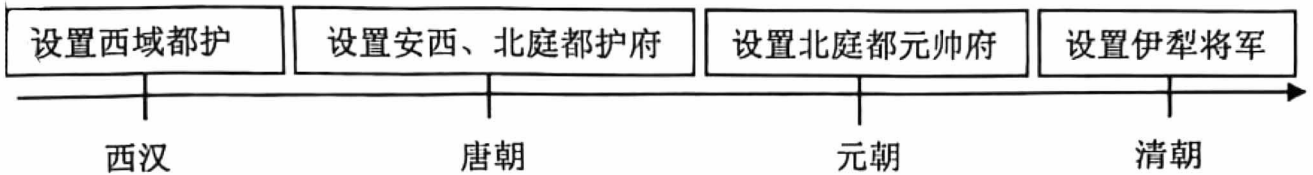
1. 北京人是世界上最重要的原始人类之一。北京人遗址中发现有灰烬、烧石和烧骨等。由此可以推断，北京人
 - A. 掌握了人工栽培水稻技术
 - B. 已经学会使用火
 - C. 具有最早的天文历法知识
 - D. 会制作各类工具
2. 有学者认为：商鞅虽死，但新法在秦长期行用并取得显著成效。秦国亦因而得以长期保持强盛的国力，最终完成统一大业。该观点说明了商鞅变法
 - A. 实施的背景
 - B. 失败的原因
 - C. 内容的全面
 - D. 深远的影响
3. 今天所说的“丝绸之路”始通于西汉在西域设置行政管理机构之时。当时经这条道路运往西方的商品有丝织品、漆器、铁器等，铸铁和凿井技术也在这时西传。西方输进中国的商品有良马、石榴等，多种乐器和歌舞等也传入中国。这说明丝绸之路



丝绸之路示意图

- ①是古代东西方往来的大动脉
 - ②促进了中外贸易与文化交流
 - ③有利于我国大一统局面形成
 - ④加强了我国南北地区的联系
- A. ①② B. ①③ C. ②③ D. ②④

4. 对以下示意图理解正确的是



- A. 唐朝前期政治开明，民族关系和睦
 B. 清朝设置驻藏大臣监督西藏地方政务
 C. 郑成功从荷兰殖民者手中收复台湾
 D. 中央政府不断加强对新疆的有效管辖

5. 以下是中国近代一位历史人物年谱(部分)。对此解读正确的是

1894年	1905年	1907年	1912年1月
成立兴中会	成立中国同盟会	筹划领导广西起义	宣誓就任临时大总统

- A. 洋务运动促进民族资本主义产生
 B. 戊戌变法启蒙民众思想
 C. 孙中山是中国民主革命的先行者
 D. 武昌起义推翻清朝统治

6. 右图是1919年发表在《新申报》上的漫画《长蛇猛兽动起来 冲破和平正义塔》。漫画中是一座即将倾倒的塔，塔身自上而下写着“公道”“和平”“正义”“平等”字样。塔的旁边立有一碑，上面写着“凡尔赛和会”。漫画作者意在



- A. 颂扬近代以来中国人救亡图存的探索
 B. 讽刺北洋军阀统治下混乱的政治局面
 C. 揭露巴黎和会是帝国主义的分赃会议
 D. 说明二战结束后联合国作用不断增强

7. 1950年1月“中国人民解放军北京市军事管制委员会布告”中第一条内容是：某些外国，过去利用不平等条约中所谓“驻兵权”，在北京市内占据地面，建筑兵营。现在此项地产权，因不平等条约之取消，自应收回。与此布告相关的史事有

- A. 《南京条约》 中华民国成立
 B. 《辛丑条约》 中华人民共和国成立
 C. 《辛丑条约》 中华民国成立
 D. 《南京条约》 中华人民共和国成立

8. 右侧照片是我国20世纪50年代政治领域取得的重大建设成就的一个场景。这一重大建设成就



人民代表步入第一届全国人民代表大会第一次会议会场

- A. 标志着我国摧毁了封建土地制度
 B. 彻底改变了我国工业落后的面貌
 C. 为人民当家作主提供了制度保障
 D. 形成了独立完整的国民经济体系

9. 1954年,《中印两国总理联合声明》中说:“两国总理重申这些原则……如果这些原则不仅适用于各国之间,而且适用于一般国际关系之中,它们将形成和平和安全的坚实基础……。”这些原则是指

- A. 和平共处五项原则 B. 求同存异 C. 四项基本原则 D. 实事求是

10. 下列史事与结论对应正确的是

	史事	结论
A	明朝建立后,先后18次修筑长城	基本解除了东南沿海的倭患
B	清朝实行闭关锁国政策	阻止了西方列强的入侵
C	1915年陈独秀创办《青年杂志》	国民革命军北伐胜利进军
D	1956年三大改造完成	社会主义基本制度在我国建立起来

11. 他被授予“共和国勋章”时的解说词写道:他是杂交水稻研究的开创者,50多年来致力于杂交水稻技术的研究、应用与推广,为我国粮食安全、农业科学发展和世界粮食供给作出巨大贡献。“他”是

- A. 钱学森 B. 邓稼先 C. 袁隆平 D. 屠呦呦

12. 文艺复兴的先驱但丁在《神曲》中抨击教会的贪婪腐化,表达了普通人的情感与理想。《蒙娜丽莎》是达·芬奇为佛罗伦萨一位商人妻子所画的肖像画,人物形象神态自若,富有生命力。这说明文艺复兴

- ①反对教会“神权至上”,提倡人文主义 ②促进了人们的思想解放
③推动了欧美国家妇女独立意识的增强 ④反对欧洲君主专制制度

- A. ①② B. ①④ C. ②③ D. ②④

13. 右侧是一部历史著作的目录(部分)。

其中①处的标题应为

- A. 隔绝的世界:美洲和大洋洲
B. 全球一体化的缘起
C. 新的战火:第二次世界大战
D. 解决全球问题:国际组织

第五部分	① (公元1500—1800年)
第23章	跨洋交流与全球联系
第24章	欧洲的转变
第25章	新世界:美洲和大洋洲
第26章	非洲与大西洋世界

14. 有同学为参加专题论坛活动,搜集了1689年《权利法案》、1787年美国宪法、1789年《人权宣言》、1804年《拿破仑法典》等历史文献。该论坛的主题应该是

- A. 资本主义制度的初步确立 B. 大众教育的新发展
C. 一战后资本主义的新变化 D. 欧洲的一体化进程

15. 有学者说:“这是俄罗斯历史上的一个重大转折点,其意义甚至比美国历史上1863年发表的《解放宣言》都要重大:《解放宣言》仅关系到美国的少数黑人,而废除农奴制的法令则涉及到在俄罗斯占压倒多数的人口。”这一重大转折点的作用是

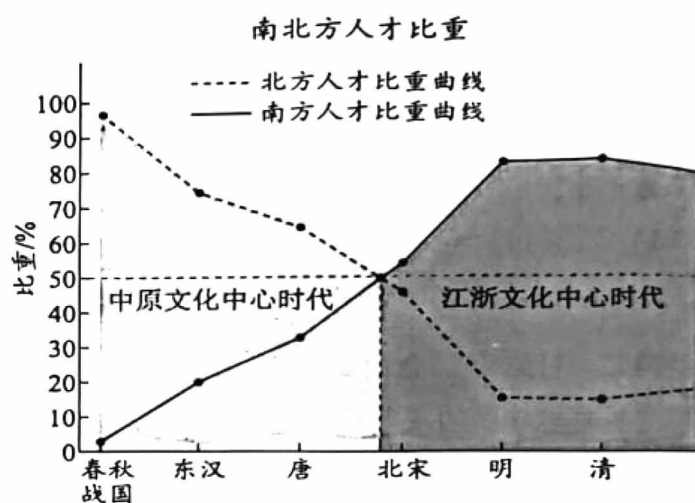
- A. 推动俄国走上发展资本主义的道路 B. 推翻幕府统治,加强中央集权
C. 维护了国家统一促进资本主义发展 D. 摧毁君主统治,传播民主思想

第二部分

21. (10分) 人口迁徙与历史变迁

材料一 魏晋以来，匈奴、鲜卑、羯、氐、羌不断迁入黄河中下游地区，不同民族间风俗习惯、生产生活方式相互影响。原黄河中下游地区民众迁入淮河以南地区。江南“火耕水耨”的粗放型农业生产方式向精耕细作转变。

安史之乱后，北方人口除平民百姓外，还有众多富商大贾、文人墨客移居川、湖、江、浙。两宋之际“靖康之难”迫使中原士庶纷纷南下，南方人口激增。以杭州为核心的江浙地区成为北方移民最集中的区域。南方人口逐渐超过北方。



(1) 依据材料一，概括中国古代人口迁徙的主要趋势。(1分) 结合所学，分析其产生的影响。(3分)

材料二 晚清时期，大量华人出洋务工，形成华工出国潮

- ① 英国于1807年、1838年先后宣布废除作为劳动力重要来源的奴隶贸易和奴隶制度，美国在南北战争后废除奴隶制。
- ② 鸦片战争后，中国产生大批失地农民和破产的小手工业者。
- ③ 被拐卖的华工通常能在一年内生产出高过拐运费以及生产投资费用三倍以上价格的产品。
- ④ 19世纪60年代前后，美国旧金山一带发现金矿，被宣传为发财致富的好去处。
- ⑤ 英、法、美强迫清政府签订《北京条约》《蒲安臣公约》等，就华工出洋达成协议。

(2) 运用材料二，多角度分析推动晚清华工出国潮形成的因素。(3分)

材料三 新中国成立后，由于西方阵营的封锁，中国大陆的海外移民基本停止。1978年，中国向世界打开了大门，出国潮经久不衰。20世纪90年代以来，国际移民不断加速，促进了劳动力、商品和资本的更大流动。据2014年数据显示，海外华侨华人数量达到6000多万人。与近代移民相比，新移民群体类别多元，既包括家庭团聚移民、低技能劳工移民，也包括留学、投资等高技能移民；女性移民的比重日益提高。华侨华人对祖国的认同逐步强化，与祖国的联系与合作愈加紧密。中国吸收的外资中，60%以上是华商资金。

(3) 依据材料三，概括1978年以来中国海外移民的特点。(2分) 结合所学，说出中国出国潮经久不衰的时代背景。(1分)

22. (10分) 未来属于青年

材料一

北京大学学生起草的 《北京学界全体宣言》	上海学生联合会印制的传单 《商家千万注意》	天津学生散发的宣传单 《欲雪国耻必须自强》
务望全国工商界，一律起来 设法开国民大会，外争主 权、内除国贼。中国存亡， 就在此一举了！	死活关头，争这一点。泣求诸 君，努力坚持，目的不达，店 门不开，救得中国……救得山 东，救得被拘的爱国学生。	同胞速醒，群策进行…… 急收旅大，保我神州…… 坚持不懈，以免后忧…… 如此进步，能占胜优

(1) 依据材料一，写出五四运动的性质。(1分) 从角度一、二中选择其一，仿照示例，说明青年学生对社会进步的作用。(示例角度除外)(2分)

角度一	角度二	角度三
五四运动的先锋	凝聚民众力量	传播新思想

示例：

角度：传播新思想

说明：青年学生在全国各地向社会各界呼吁宣传，要争取民族独立、国家自强，传播了爱国、民主、科学、进步的新思想。

材料二 抗美援朝战争期间，广大青年积极参与到全国的捐献热潮中，如青年演员常香玉带领剧社巡演 170 场，将所得捐献购买了一架战斗机。在农、工、商等各领域还开展了生产竞赛，“一切为了祖国”成为国内青年的行动口号。全国各地青年积极报名参军，中国人民志愿军中青年指战员占 66%。21 岁的黄继光用胸口堵枪眼光荣牺牲，26 岁的邱少云为保证战斗胜利被烈火烧身而牺牲，21 岁的罗盛教为救落入冰窟窿的朝鲜少年光荣献身。

(2) 依据材料二，概括青年为抗美援朝战争做出的贡献。(2分) 指出其体现的抗美援朝精神。(2分)

材料三 1986 年，我国制定了国家高技术研究发展计划，即“863 计划”。“863 计划”造就了一批既有深厚专业造诣、又能把握高技术发展方向的战略科学家和青年领军人才。1989 年“青年星火带头人”活动，把新技术成果引入农村，农村出现一批科技后备科研和工程技术队伍。新时代以来，国家制定科技自立自强的战略，中国科协实施“青年人才托举工程”。青年人敢啃“硬骨头”，勇闯“无人区”，“十年磨一剑”。北斗导航等国家重大工程中，团队的平均年龄刚过 30 岁。

(3) 依据材料三，说说社会进步与青年人发展之间的关系。(2分) 综合以上三则材料，谈谈作为青年的你从中获得的启示。(1分)

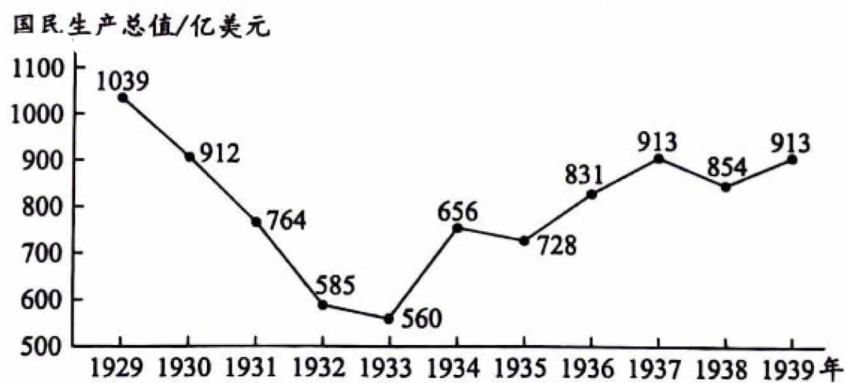
23. (9分) 探索·发展

材料一 十月革命胜利后，面对残酷的战争环境，苏维埃政府实行战时共产主义政策，包括实行余粮收集制、取消自由贸易等。1920年底，国内战争逐渐平息。但是，工厂停工，农业产量急剧下降，饥荒严重。列宁在调查后认为，只有改变战时共产主义政策，才能恢复和发展生产。1921年春，苏维埃政府开始实施新经济政策。列宁指出：“我们还不能实现从小生产到社会主义的直接过渡……应该利用资本主义作为小生产和社会主义的中间环节，作为提高生产力的手段、途径、方法和方式。”

(1) 依据材料一，指出与战时共产主义政策相比，新经济政策做出的调整。(1分) 结合所学，说说新经济政策的作用。(2分)

材料二 1933年罗斯福就任美国总统后，为应对经济大危机，颁布了《紧急银行法案》《农业调整法》等多部法律，采取了“以工代赈”等一系列行政措施，被统称为“新政”。新政为其他资本主义国家克服经济危机提供了可以模仿的有效例证，也使得各资本主义国家选择政府宏观调控作为以后政府加强控制的主要工具。

1929-1939年美国国民生产总值



(2) 依据材料二并结合所学，概括罗斯福新政的特点。(1分) 分析新政产生的影响。(2分)

材料三 1992年，邓小平到南方视察过程中发表一系列重要谈话，指出：社会主义的本质，是解放生产力，发展生产力，消灭剥削，消除两极分化，最终达到共同富裕；计划和市场都是经济手段……

党的二十大报告指出，中国式现代化是全体人民共同富裕的现代化。共同富裕是中国特色社会主义的本质要求。

(3) 依据材料三，写出邓小平对社会主义本质的认识。(1分) 结合所学，列举中国共产党为实现全体人民共同富裕进行的实践。(2分)

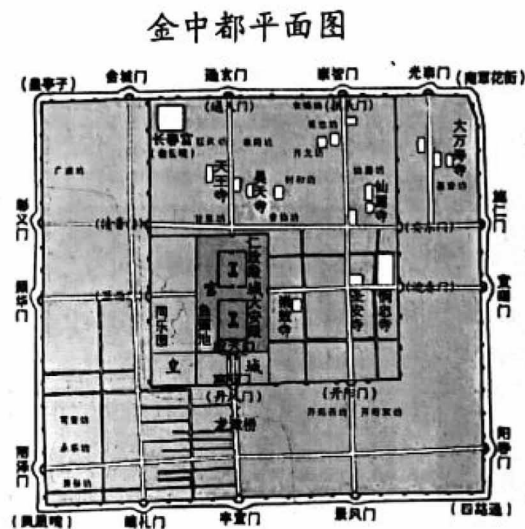
24. (11分) 北京——中华文明的有力见证

材料一 北京位于华北平原的北端，气候温和，水利资源丰富，地处东北、西北、西南几条古代大道的交汇点上，是南北交通的重要枢纽。周围多种文化向北京传入，并通过这里相互影响，北京地区成为北方民族同中原民族交往交流的枢纽和桥梁。

北京城的兴起始于周代，距今已三千余年。周武王灭商后，封黄帝后人于蓟，封同姓贵族召公于燕。春秋战国时期诸侯割据，蓟为燕侯都城，名满海内。后世或称北京为燕京，来源于此。

(1) 依据材料一，归纳古代北京建城的有利条件。(2分) 结合所学，写出与蓟、燕建城相关的西周政治制度名称。(1分)

材料二 1153年，金迁都燕京，改名中都。金中都仿照北宋都城汴京的建筑格局和宫室制度，在辽南京城的基础上进行了大规模扩建。在扩建过程中，把皇城摆在了城市的中心位置，不断强调“居天下之中”“可以为正统”的华夏正统思想。金朝人不仅把园林纳入皇城，还在城外风景优美的地方，如白莲潭(今什刹海一带)、南海子等兴建离宫别苑，这反映出草原民族逐水草而居的理念。金中都的建立，使北京完成了由“城”到“都”的身份转换，在华夏都城营建史上有着承上启下的作用，为元明清定都北京打下了坚实基础。



(2) 依据材料二，概括金中都城市建设的特点。(2分) 分析金中都建立的影响。(2分)

材料三 新时代以来，北京的首都功能不断优化提升

①	2022年北京市政府工作报告提到，北京一批大科学装置建设运行顺利，综合性国家科学中心取得阶段性成果。
②	2022年冬奥会期间，北京先后举行20余场同外国元首、政府首脑、国际组织负责人的双边会晤。
③	2022年7月，首届北京文化论坛在京召开，论坛以“推动文化创新 赋能美好生活”为年度主题。
④	2022年10月15日，中国共产党第二十次全国代表大会在北京开幕。
⑤	截至2023年8月，北京已形成全国规模最大、实力最强的博物馆集群，年均接待观众超过5000万人次。
⑥	2023年10月18日，第三届“一带一路”国际合作高峰论坛在北京举行。
⑦	2023年北京万人发明专利拥有量262.9件，技术合同成交额85236.9亿元。
⑧	2024年3月11日，第十四届全国人民代表大会第二次会议在北京人民大会堂闭幕。

(3) 依据材料三，将下列表格补充完整。(4分)

序号	④⑧	③⑤		
首都功能	政治中心			国际交往中心

密封线内不要答题