

北京市西城区2023—2024学年度第一学期期末试卷

九年级历史

2024.1

注 意 事 项	<ol style="list-style-type: none">1. 本试卷共 12 页，共两部分，共 34 题，满分 100 分。考试时间 90 分钟。2. 在试卷上准确填写学校、班级、姓名和学号。3. 试题答案一律填涂或书写在答题卡上，在试卷上作答无效。4. 在答题卡上，选择题用 2B 铅笔作答，其他试题用黑色字迹签字笔作答。5. 考试结束，请将考试材料一并交回。
------------------	---

第一部分

本部分共 30 题，每题 1.5 分，共 45 分。在每题列出的四个选项中，选出最符合题目要求的一项。

1. 以下是《中国历史》七年级上册第一单元的目录，据此判断本单元的学习主题是

- A. 中国境内早期人类与文明的起源
- B. 原始农业的起源与发展
- C. 统一多民族国家的建立和巩固
- D. 民族关系发展和社会变化

第 1 课 中国境内早期人类的代表——北京人
第 2 课 原始农耕生活
第 3 课 远古的传说

2. 青铜器是商周文明高度发达的代表，司母戊鼎、四羊方尊、三星堆青铜面具分别出土于河南、湖南、四川，三者纹饰有明显差异，造型各具特色，但其分铸技术与合金比例属于同一系统。这说明了

- A. 青铜器主要作为礼器使用
- B. 青铜铭文是研究商周历史的唯一证据
- C. 中华文明多元一体的特点
- D. 青铜器的铸造技术有明显的地域差异

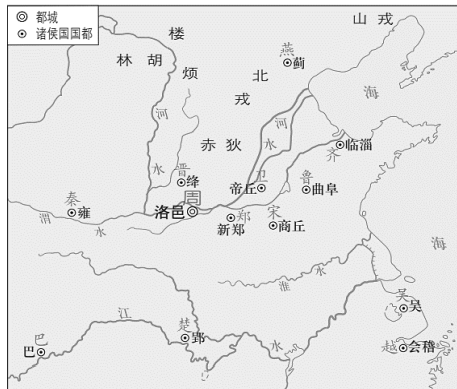


大盂鼎及其铭文

3. 西周早期的青铜器大盂鼎铭文记述了周康王册命贵族盂之事，铭文中有一句“受民受疆土”。此铭文可用于研究

- A. 王位世袭制
- B. 禅让制
- C. 土地私有制
- D. 分封制

4. 对比《春秋列国形势图》与《战国形势图》，能够得出的推论是







▲ 春秋列国形势图



▲ 战国形势图

- A. 统一趋势不断加强
B. 各国长城已经连为一体
C. 秦灭六国完成统一
D. 农业、手工业水平提高
5. 铁权是秦朝称重的标准器，器身一般刻有小篆诏文，注明标准单位“石”（秦制 120 斤相当于现在的 30 公斤）。现有的考古发现表明，铁权在我国多地均有出土。以上材料说明秦朝
- A. 铁质工具完全取代其它材质的工具
B. 文字混乱的状况未得到扭转
C. 当时的一斤比现在的一斤更重一些
D. 统一的度量衡得以广泛推行
6. 有学者认为，“当西汉王朝取得政治上的稳定和经济上的繁盛，统一思想的课题便再次被提出来”。西汉实现“统一思想”的措施是
- A. 北击匈奴
B. 休养生息，轻徭薄赋
C. 盐铁专卖
D. 罢黜百家，尊崇儒术
7. 史料是认识历史的主要依据。以下文物可用于研究魏晋南北朝时期历史的有

			
①南朝青瓷莲花尊	②张择端《清明上河图》(局部)	③南朝牛车画像砖	④北魏陶俑

- A. ①②③
B. ①②④
C. ①③④
D. ②③④
8. 魏晋南北朝时期，官吏的选拔由上层权贵垄断，选官看门第，不太注重才能。隋文帝即位后，废除了前朝的选官制度，注重考察人才的学识，初步建立起通过考试选拔人才的制度。隋炀帝时，正式确立了科举制。这一选官制度的变革
- ①钳制了人们的思想
②促进了社会阶层流动
③推动了教育的发展
④有利于加强中央集权
- A. ①②③
B. ①②④
C. ①③④
D. ②③④
9. 隋朝大运河以洛阳为中心，“北通涿郡，南至余杭，商旅往返，船乘不绝”。这表明隋朝开通大运河
- A. 有利于西南边疆的开发
B. 加强了南北经济交流
C. 直接导致了隋朝的灭亡
D. 促进了思想文化发展
10. 生产工具的进步是社会生产力发展的重要标志。农业生产工具中，耕作工具和灌溉工具格外重要。下列农业生产工具中，属于唐朝时期发明并推广的有



11. “唐朝是中国历史上少有的既善于继承，又能够兼收并蓄的时代……多种文化的交流汇聚，形成了绚丽多彩的唐代文明”。下列史实，能够佐证以上观点的是
- ①发展完善科举制度 ②朝鲜半岛音乐传入中国

③马可·波罗游历中国 ④玄奘西行前往天竺取经

A. ①②③ B. ①②④ C. ①③④ D. ②③④

12. “书中自有黄金屋”“好男不当兵，好铁不打钉”等俗语都出自北宋。这主要是由于北宋

A. 经济重心南移完成 B. 实现了国家大一统
C. 实行重文轻武政策 D. 对外文化交流频繁

13. 某外国学者说道：“如果没有从中国引进 _____，欧洲可能要长期停留在手抄本的状况，书面文献不可能如此广泛流传。”横线处应填写的恰当内容是

A. 印刷术 B. 造船技术 C. 丝织技术 D. 指南针

14. 《金史》记载：“榷场……互市之所也。”结合图文，可以得出的认识有

①榷场处于不同政权交界的边境地区
②榷场贸易开始于南宋与金对峙时期
③不同政权所有商品都通过榷场交易
④宋与金之间通过榷场贸易互通有无



A. ①③ B. ①④
C. ②③ D. ②④

15. 元代居庸关云台的过街塔门洞壁上刻有《建塔功德记》，

使用了西夏文、汉文、藏文、八思巴文、维吾尔文等五种文字。这一现象体现了元朝的

A. 君主专制 B. 中外交流 C. 民族交融 D. 经济发展

16. 元朝的版图是我国历史上最大的。元朝建立后，设中书省作为中央的中枢机构。其他地区，除吐蕃、畏兀儿地区外，实行的地方行政制度是

A. 郡国并行制 B. 丞相制度 C. 三省六部制 D. 行省制

17. 某校要举办中国古代科技成就的主题展览，以下素材可以补充在空白处的是

蔡伦改进造纸术	祖冲之创制《大明历》	唐朝时发明火药	
---------	------------	---------	--

A. 关汉卿创作《窦娥冤》 B. 宋应星编写《天工开物》
C. 曹雪芹创作《红楼梦》 D. 朱熹编撰《四书集注》

18. “它是中国古代集大成的药物学著作，共记载了药物 1800 多种，收录药方 11000 多个，对各种药物进行了新的分类，在世界医药史上占有重要的地位。”此处的“它”是指

A. 《伤寒杂病论》 B. 《梦溪笔谈》 C. 《本草纲目》 D. 《农政全书》

19. 孔子、墨子、孟子等均有以天下为己任的思想；北宋范仲淹的“先天下之忧而忧，后天下之乐而乐”；南宋文天祥的“人生自古谁无死，留取丹心照汗青”；明末清初顾炎武的“天下兴亡，匹夫有责”，都体现了中国古代知识分子

A. 具有家国情怀 B. 主张和而不同
C. 崇尚天人合一 D. 重视以人为本

20. 以下重大历史事件，按时间先后顺序，排列正确的是

①张骞通西域 ②卫温率船队到达夷洲
③戚继光抗倭 ④设立澎湖巡检司管辖澎湖和琉球

A. ①②③④ B. ①②④③ C. ②①④③ D. ②④①③

21. 古代亚非地区的文明古国创造了辉煌灿烂的文明成果。下列文明成果属于古巴比伦王国的是

- A. 金字塔 B. 《汉谟拉比法典》 C. 甲骨文 D. 象形文字

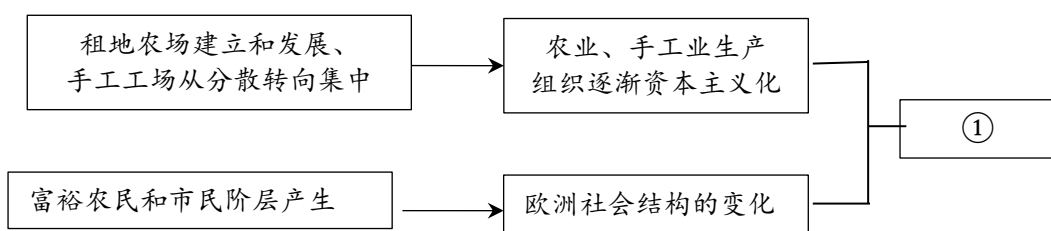
22. 某同学要撰写一篇历史小论文，在他搜集的资料中，有帕特农神庙遗址、《荷马史诗》罗马大竞技场遗址、《十二铜表法》。据此判断，该论文研究的主题是

- A. 雅典的民主政治 B. 罗马成文法的起源
C. 罗马帝国的兴衰 D. 希腊罗马古典文化

23. 西欧中世纪封君与封臣关系的形成有明确和规范的仪式。封臣要解下佩戴的武器，脱帽，下跪，将双手放在封君合拢的手掌中，说：“阁下，我是您的人了。”并宣示效忠。之后，封君将封臣拉起，亲吻他的脸颊，宣誓保护封臣，并将象征分封的信物交给封臣。从以上材料可以看出

- A. 封君封臣的关系有一定的契约意义 B. 庄园法庭具有司法权
C. 庄园是中世纪乡村的典型组织形式 D. 城市平民的力量增强

24. 示意图能够简明扼要地表明史实之间的关系，以下示意图中①处应为



- A. 西欧经济和社会的发展 B. 社会思想的变革
C. 资本主义制度逐渐确立 D. 工场手工业发展

25. 1689年，英国议会通过的一部法律文献规定：国王不经议会许可，不能随意废除法律，也不能停止法律的执行，不得征收捐税。该法律文献是

- A. 《大宪章》 B. 《人权宣言》 C. 《权利法案》 D. 《拿破仑法典》

26. 下列关于美国独立的重大历史事件的时间轴中，发生在1776年的是



- A. 来克星顿的枪声 B. 萨拉托加大捷
C. 通过《独立宣言》 D. 英国承认美国独立

27. 有观点认为，美国革命之所以重要并不是因为它创造了一个独立的国家，而是因为它创造了一个新的、不同类型的国家。该观点中，“新的、不同类型的国家”是指

- A. 君主立宪制国家 B. 联邦制共和国
C. 贵族专制的国家 D. 君主专制国家

28. 右侧漫画创作于1789年，画面中央正在演奏风笛的是一个第三等级的城市平民，他手上牵着一只被驯服的狮子——国王路易十六；腿上操纵的两个木偶分别代表第一等级教士和第二等级贵族。与此漫画相关的历史事件是

- A. 约克镇战役 B. 英国资产阶级革命
C. 法国大革命 D. 拿破仑帝国的建立

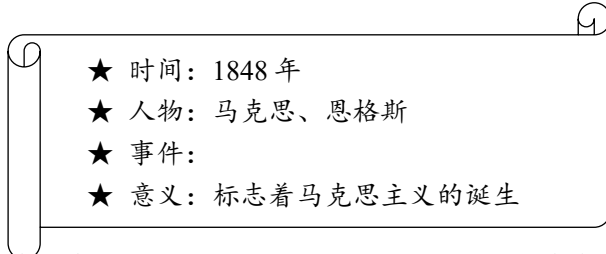


29. 有学者指出，“拿破仑在所有被他征服的地区都贯彻了法国革命的一些基本原则。他废除封建制度和农奴制，承认所有公民平等，实施其著名的《法典》。这些改革意味着进步或至少意味着维新”。此观

点意在说明拿破仑对外战争

- A. 摧毁了法国的君主统治
- B. 动摇了欧洲的封建秩序
- C. 压榨和掠夺了当地人民
- D. 促进了民族意识的觉醒

30. 一位学生在自己的笔记中记录了下图所示的信息，___处应填入的是



- A. 发表《共产党宣言》
- B. 出版《资本论》
- C. 成立国际工人协会
- D. 建立巴黎公社

第二部分

本部分共4题，共55分。

31. (14分) 自秦汉以来中国就是一个不断发展的统一多民族国家

材料一 在地方上，秦实行①制，开创了此后我国历代王朝地方行政的基本模式。汉初，曾在各地分封了一批诸侯王，后来，诸侯国与中央形成了严重的对抗，以至演变为七国之乱。七国之乱平定后，诸侯国的最高行政长官一律由中央任免，听命于朝廷，诸侯王的行政权被剥夺。同时，汉武帝还继承了文景以来的削藩政策，颁布②，解决了地方势力过大的问题。

——摘编自张岂之《中国历史十五讲》

(1) 结合所学，将①②处补充完整。(2分) 说说两项举措产生的共同作用。(1分)

材料二 拓跋鲜卑仿魏晋以来的官僚体制，陆续吸收汉族士人进入北魏政权，并极力弘扬、发展儒学。唐朝“洛阳家家学胡乐”，中原盛行胡衣胡帽。辽太祖时期，制契丹文字，尊孔子，建孔庙，推动文化发展。自辽太宗后，辽朝开始采用中原的制度、文化、礼仪等，踏上了华夏化的道路。金熙宗时，开始进行汉化改革，如施行三省六部制，兴科举、祭孔子、立太庙等，推动了金朝文化的发展。多民族在不断交往中强化了对中华文化的认同，进而推动着中华民族共同体的形成。

——整理自冉诗泽等《共筑中华民族共同体：大一统思想在少数民族中的实践研究》

(2) 概括材料二中民族交往的内容。(3分) 结合所学，分析其对统一多民族国家发展的意义。(2分)

材料三





时期	史事
元朝	在少数民族聚居的府、州、县设置土官(也称土司，由少数民族首领充任并世袭的官职)。元世祖忽必烈封八思巴(西藏地区宗教领袖之一)为帝师，领宣政院事，代表中央政府管理佛教和藏族事务。
明朝	设置礼部、鸿胪寺管理民族事务的中央机构，西南少数民族地区设置各级土司，敕封西藏僧俗领袖为“王”“法王”，建立都司等机构，对西藏地方进行管辖。
清朝	设立理藩院管理边疆民族事务。在西藏地区分别册封五世达赖与五世班禅为“达赖喇嘛”和“班禅额尔德尼”。内蒙古实行盟、旗制，在各自范围内享有按传统制度统治的权力。

(3) 依据材料三，概括元、明、清处理边疆民族关系的共性。(2分) 结合所学，列举清政府加强边疆管辖的其他史实。(2分)

(4) 结合所学和自身实际，谈谈你对中国统一多民族国家发展的认识。(2分)

32. (13分) 史料·史实·史论

材料一 史料是人们了解过去、认识历史的重要依据和基础。迄今为止，人们所能认识并可以搜集、运用的史料大体有文献、实物、口述、图像等类别。

①  北京人使用的石器	②  春秋战国时期的铁农具	③ 顺天时，量地利，则用力少而成功多。任情返道，劳而无获。 ——贾思勰《齐民要术·种谷》
④  唐朝阎立本《步辇图》(局部)	⑤  宋代《耕获图》	⑥ 舟师识地理，夜则观星昼则观日，阴晦观指南针。 ——(宋)朱或《萍洲可谈》

(1) 将材料一中的史料进行分类。(3分。写序号，多选、少选、错选不得分) 任意选择其中一则史料，谈谈其研究价值。(2分)

实物史料：____；文献史料：____；图像史料：____

材料二

史书	作者	盛衰论
《史记》		①古今“未必尽同”，对于战国时期的变法，加以赞赏
		②“物盛则衰，时极而转”，是指在休养生息取得的繁荣表象下，社会存在着很多问题
《资治通鉴》	司马光	③“鉴前世之兴衰，考当今之得失”，历史上许多动乱的爆发，是由于统治者乱施暴政
		④用人不问亲疏，不讲门第，“举之以众，取之以公”，根据具体的功绩赏罚

——摘编自《中国史学史》

(2) 将表格中横线处补充完整。(1分) 中国古代史家认识到历史上“盛衰”转变有其原因，从上述表格中选取一个观点(④除外)，结合具体史实进行说明。(3分)

示例：④史学家认识到用人的重要性。宋代注重发展文教，科举制度的发展造就了科技发展、文化昌盛、人才辈出的局面，有利于政权的稳固和社会的安定。

材料三 在西方中世纪，神创论等是关于人类社会起源、演变动力的基本观念。随着西方社会的思想解放、地理大发现、对非洲美洲民族文明的了解，以人的复苏为主要内容的历史观念革新的阶段到来了。“史学思想又一次把人放在它的画面上的中心地位”，着力用人事而非神意的观点考察、解释过去。此时的史学家认为“历史是各部分不可分的有机体”，指出人类历史不仅在时间上，而且在空间上都应当是世界性的。

——摘编自张井梅《16、17世纪历史进步观与西方史学》

(3) 依据材料三，概括 16、17 世纪西方形成的新历史观念。(2分) 指出历史观念革新的时代背景。(2分)

33. (15分) 交通·交流·发展

材料一 公元前 212 年，秦朝开始修建直道。建成后，一直使用到清朝中后期才逐步荒废。秦直道全长达 700 多公里，沿途建有烽火台、哨卡、夯土护坡、排水沟、驿站等附属建筑。其中夯土护坡和排水沟保障了道路的稳固和干燥；烽火台、哨卡和驿站等是为军事功能设计的。随着人口聚集，秦直道逐渐成为商贸往来的一条重要通道，茶叶、丝绸、瓷器都在这里进行大宗贸易，见证了各民族的交往、交流。



——摘编自郭伟伟等《秦直道：2000 年前的“高速公路”》

秦直道

(1) 依据材料一，概括秦直道的特点。(3分) 结合所学，分析秦直道的作用。(2分)

材料二 元初陆上丝绸之路设置驿站不只为往来交通及贸易服务，更重要的是便于中央政令直达边陲，各地的情况也可迅速上奏朝廷。而中央政府承袭宋朝市舶司对海上贸易的监管方式，对海上丝绸之路的经营管理更具贸易性。陆上丝绸之路多以骆驼、马车为主要运载工具，运载量有限。海上丝绸之路运载工具多为船舶，运载量非常大且节约时间。在纺织贸易中，陆上丝绸之路多以皮毛、棉布为主，而海上丝绸之路则以苏杭丝绸为主。元初海运瓷器量不计其数，但陆上丝绸之路所见元青花瓷则少之又少。

——摘编自冯国昌《元初陆海“丝绸之路”及当代启示》

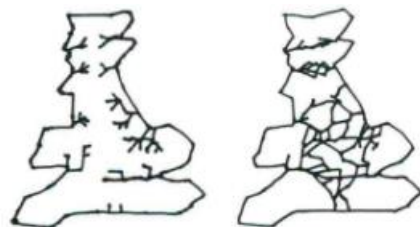
(2) 依据材料二，比较元初陆上与海上“丝绸之路”的不同。(3分)

材料三 明朝中后期大规模引种玉米、马铃薯、辣椒、番茄等作物，使清朝人口急速增长有了粮食保障，人们的饮食结构和习惯发生了重大变化。欧洲商人对中国商品的大量购买、运输，推动了明清商品经济的发展。随着新航路的开辟，欧洲殖民者在中国沿海的活动日益频繁，葡萄牙骗居澳门，荷兰侵略台湾。传教士为了顺利传教，带来天文、地理、历法、数学等方面的书籍和知识，徐光启等人开始在自己的著作中引用西方著作的成果。传教士也将中国文化介绍到西方，如翻译了“四书”“五经”等著作，影响到一些启蒙思想家。

——摘编自张书林《新航路开辟的影响》

(3) 依据材料三，概括新航路开辟对中国的影响。(3分)

材料四 18 世纪以前，英国大部分河流不能通航。1759 年一位大煤矿主获准修筑一条长 11 公里的运河，以便廉价地把煤运到曼彻斯特。这条运河通航后，运煤费用降低了一半。1760—1830 年被称为英国历史上的运河时代，大量运河被修建。到 18 世纪末，英国运河已达 3100 多英里，人工运河与自然河流、内陆湖泊，共同构成了密集的水上运输网，显然对开通全国性市场起了重大作用。



法雷尔：1750 年英国的主要河流简图 1810 年运河将各条河流连接起来

——摘编自许洁明《殊途同归——近代欧洲工业文明的兴起》

起》

(4) 依据材料四，说说 18 世纪前后英国内河航运发生的变化。(2分) 结合所学，分析变化产生的作

用。(2分)

34. (13分) 经济发展与社会变化

材料一 开始于15世纪中叶的黑奴贸易在非洲前后持续了400多年。大多数西方国家都参与了经常性的黑奴贸易。伴随着西方殖民者在美洲种植园经济的迅速发展,黑奴贸易的规模迅速扩大。贩奴船到美洲后,卖给种植园的奴隶价格一般比在非洲买价高30—50倍。欧洲商人用出卖奴隶的钱购买美洲种植园和矿场的农矿原料。这样,在欧洲、非洲和美洲之间形成了一种“三角贸易”。

黑奴贸易为美洲殖民地的开发,提供了大批最廉价的劳动力。400年的黑奴贸易使非洲丧失了约2.1亿人口,是黑人传统文明衰落、经济发展倒退的祸根。“三角贸易”给西欧各国,特别是英国资本家带来了巨额的财富,成为其资本原始积累的一个重要来源,促进了欧美资本主义的发展。

——摘编自王斯德《世界通史》

(1) 依据材料一,概括黑奴贸易的特点。(3分) 结合所学,谈谈你对黑奴贸易的认识。(2分)

材料二 英国资本主义萌芽约出现在15世纪。从16世纪中期起,新兴的玻璃、制糖、棉纺织等部门中都采用了雇佣的生产方式,手工业的发展推动了商业的兴旺。伴随着资本主义工商业的发展,诞生了一支资产阶级队伍。他们受到封建行会制度和国王推行的垄断制度的束缚,在政治上又处于无权的地位,所以,他们强烈要求废除封建专制制度,发展资本主义,成为革命中的领导力量。

英国资产阶级革命确立了资本主义生产关系和政治制度,维护了法治。此后,英国进入一个长时期的稳定发展时期,有利于经济的发展,加速了工业革命的到来。革命中产生的共和思想、君主立宪制度和议会至上原则,对近代世界政治制度的发展产生了重要影响。

——摘编自王斯德《世界通史》

(2) 依据材料二,概括英国资产阶级革命的背景。(1分) 分析革命的意义。(2分)

材料三 英国固定式动力源装机容量统计表(单位:千马力)

	1760年	1800年	1830年	1870年
风车	10	15	20	10
水车	70	120	160	230
蒸汽机	5	35	160	2060

瓦特改良的蒸汽机为机器大工厂的建立开拓了极其广阔的地理空间。此后,工厂的选址不必非湍急的河流附近不可,凡是有燃料(煤炭)的地方,就能兴建工厂,组织起大规模的工业生产。英国的工厂可以开设在市场繁荣、交通发达之处,以便购买原料和销售产品;它可以移近人口密集地带,以便招募人员;许多工厂可以汇集在一起,进而形成巨大的工业城市和经济中心。工业化地区的经济结构和社会结构都发生了重大变化。

——整理自罗伯特·艾伦《近代英国工业革命揭秘》等

(3) 依据材料三,说说1760—1870年英国固定式动力源装机容量的变化。(1分)

分析瓦特改良蒸汽机产生的影响。(2分)

(4) 综合上述材料,谈谈你对资本主义经济发展与社会变化的认识。(2分)